
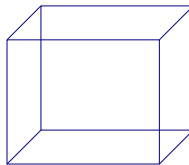




Cuerpos y figuras



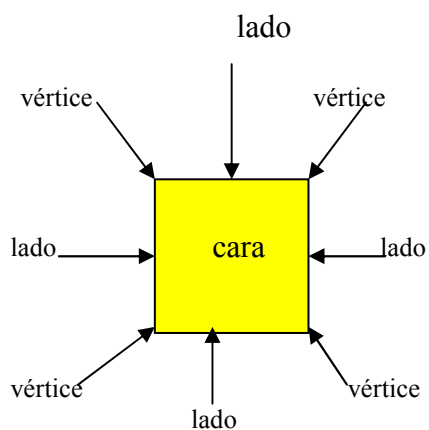
Este dibujo representa un **cuadrado**: el cuadrado es una **figura**.



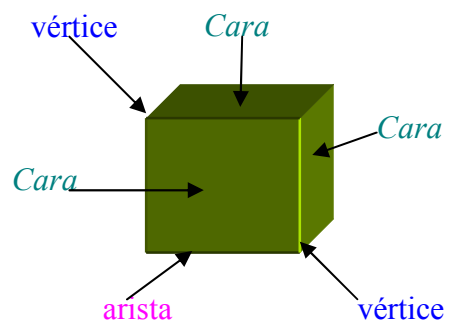
Este dibujo representa un **cubo**: el cubo es un **cuerpo**.

Sus elementos son:

El cuadrado




El cubo



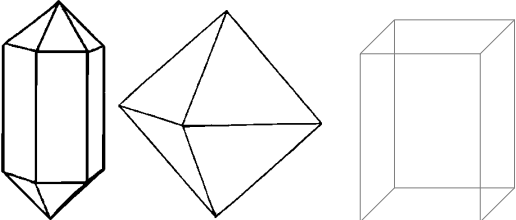
Este dibujo representa una **circunferencia**:  la circunferencia es una **figura**.

Este dibujo representa un **círculo**:  el círculo es una **figura**.

Este dibujo representa una **esfera**:  la esfera es un **cuerpo**.


Este dibujo representa un **triángulo**:  el triángulo es una **figura**.

Este dibujo representa un **cono**:  el cono es un **cuerpo**.

Te mostramos algunos prismas:  son **cuerpos**.

Este dibujo representa un **rectángulo**:  el rectángulo es una **figura**.

Este dibujo representa un **cilindro**:  el cilindro es un **cuerpo**.

Este dibujo representa una **pirámide**:  la pirámide es un **cuerpo**.



Actividad 1

Escribí una lista de 2 objetos que tengan forma de cubo, como el dado;
2 objetos que tengan forma de esfera, como la pelota de golf;
2 objetos que tengan forma de cilindro, como un tubo de luz;
2 objetos que tengan forma de cono, como el cucurucho de helado;
2 objetos que tengan forma de prisma, como el envase de leche.



Actividad 2

Observá atentamente estos dibujos:



Enumerá los elementos que tienen forma de cubo:

.....

Enumerá los elementos que tienen forma de esfera:

.....

Enumerá los elementos que tienen forma de cono:

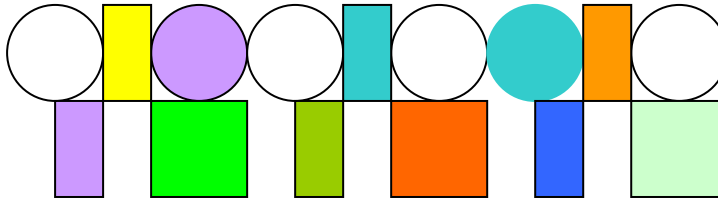
.....

Enumerá los elementos que tienen forma de prisma:

.....

**Actividad 3**

Observá atentamente esta guarda:



¿Cuántos rectángulos hay?

¿Cuántas circunferencias hay?

¿Cuántos círculos hay?

Si quiero dibujar otra guarda que sea el doble, ¿cuántos cuadrados tengo que hacer?

Si quiero dibujar una guarda que sea la mitad, ¿cuántos círculos tendrá?

Hemos terminado esta parte, descansenmos, comamos algo rico, hasta luego...

